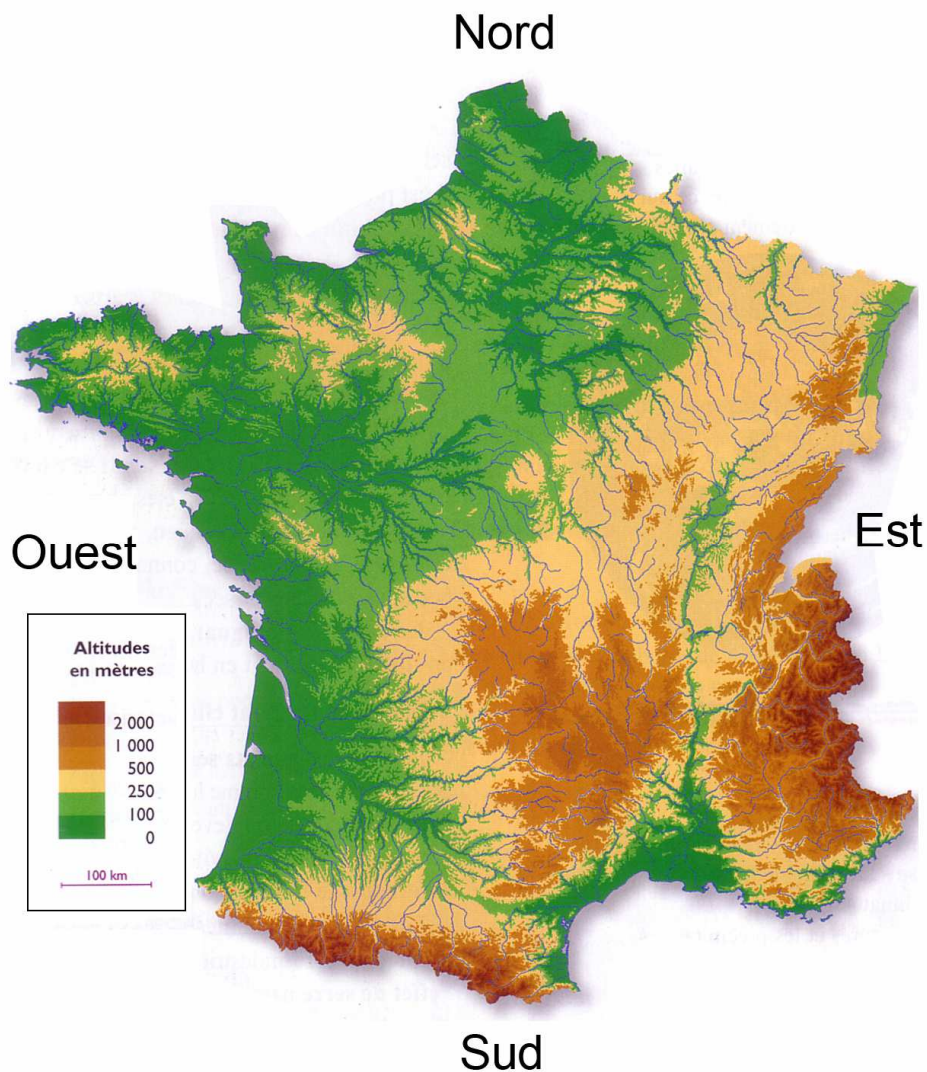


Nous allons travailler sur la France et son relief.

Lexique (rappels) :

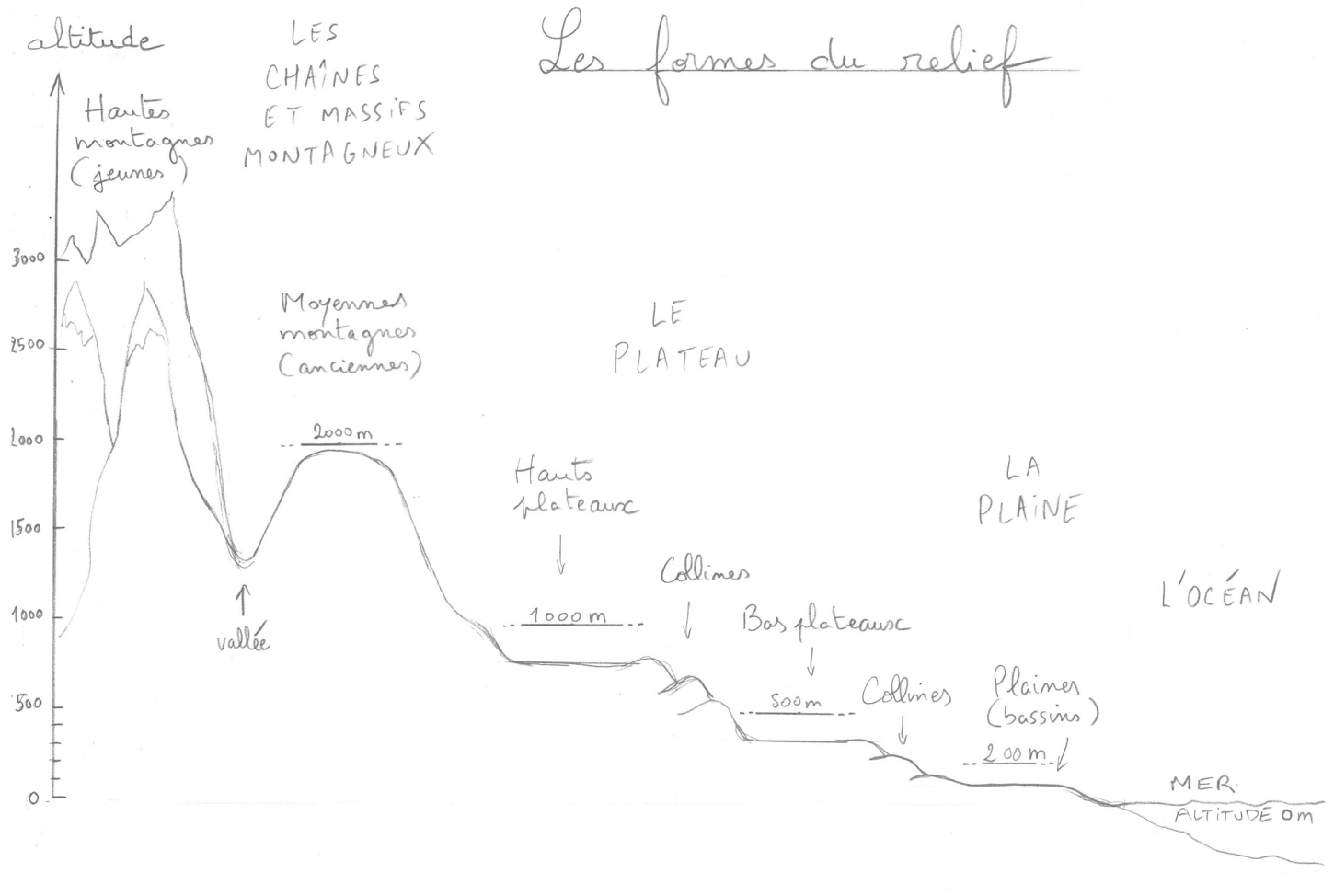
- **Relief** : forme de la surface de la Terre
- **Altitude** : hauteur par rapport au niveau de la mer
- **Plaine** : étendue plane de faible altitude (entre 0 et 200 m)
- **Plateau** : étendue plane plus élevée que la plaine où les rivières creusent des vallées (entre 200 et 500 m pour les bas plateaux et entre 500 et 1000 m pour les hauts plateaux)
- **Vallée** : espace creux et allongé souvent entre deux montagnes au fond duquel coule une rivière
- **Montagne** : forme de relief situé à plus de 600 mètres d'altitude
- **Chaîne de montagnes** : ensemble de montagnes disposées en ligne
- **Massif montagneux** : ensemble de montagnes formant un groupe compact

Observer d'abord cette carte physique de la France.



On observe 6 couleurs qui correspondent à l'altitude (voir la légende). En vert, les plaines ; en beige les bas-plateaux ; en marron claire les hauts-plateaux ; en marron plus foncé les moyennes montagnes et en marron/rouge les hautes montagnes. Le niveau de la mer est à 0 mètre.

Le schéma ci-dessous montre les différentes formes du relief (schéma déjà étudié en classe).

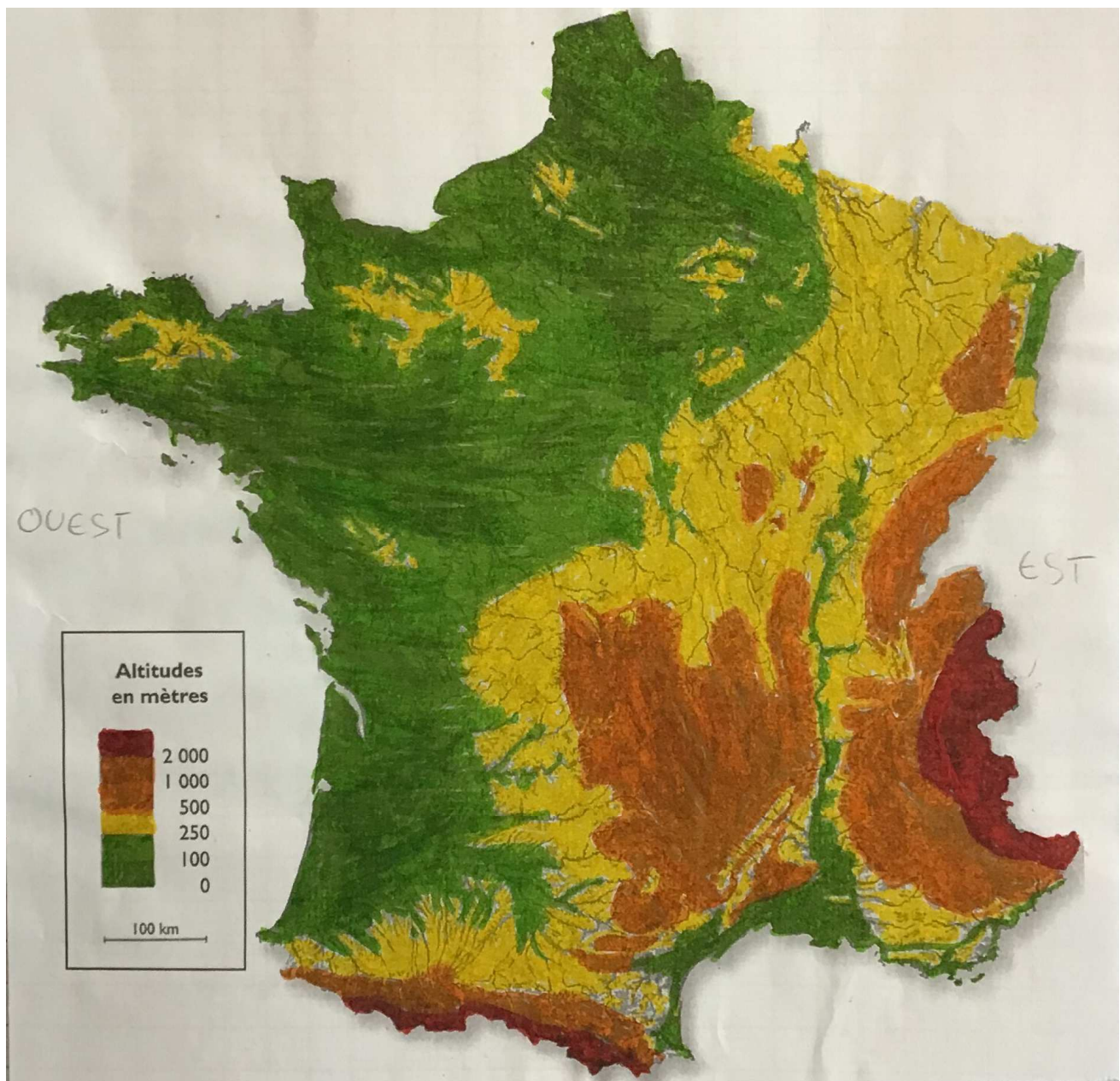


Facultatif : Vous pouvez refaire ce schéma sur une feuille blanche A4, format paysage.

Travail à faire :

- Imprimer le document « Coloriage du relief de la France ».
- Il faut colorier au feutre avec seulement 4 couleurs : vert, jaune, orange, rouge.
- Ne pas oublier de colorier la légende.
- Voir le modèle sur la page suivante.

Voici comme modèle le coloriage d'une ancienne élève :



Questions (à l'oral) :

1. Où se situent les zones de basses terres ?
2. Quelle grande opposition voit-on nettement sur cette carte de France ?

Les frontières de la France sont presque toutes naturelles : au Nord-Ouest, on a une mer, à l'Ouest un océan, au Sud-Ouest une chaîne de montagnes qui nous sépare de l'Espagne, au Sud-Est une mer, à l'Est des chaînes de montagnes qui nous séparent de l'Italie et de la Suisse, et un fleuve qui nous sépare de l'Allemagne.

3. Combien la France compte-t-elle de frontières ?
4. Trouver les noms de l'océan, des 2 mers et du fleuve.
5. Trouver les noms des reliefs en orange et rouge sur la carte.