



Mathématiques CM

Jeux de Calcul 1

NOM :

date :

1 - Complète les série suivantes (pour cela, tu devras trouver à chaque fois la règle qui te permettra de continuer).

5	6	9	10	13																33
---	---	---	----	----	--	--	--	--	--	--	--	--	--	--	--	--	--	--	--	----

5	6	8	9	11																	27
---	---	---	---	----	--	--	--	--	--	--	--	--	--	--	--	--	--	--	--	--	----

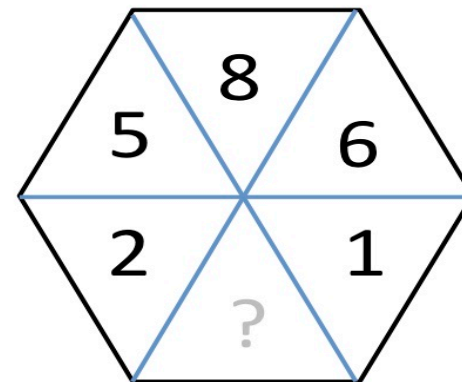
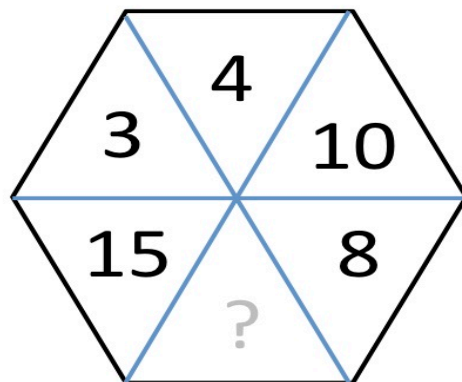
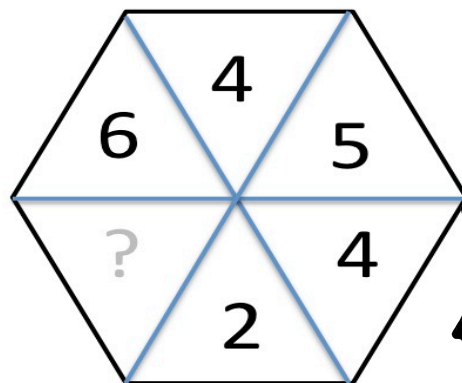
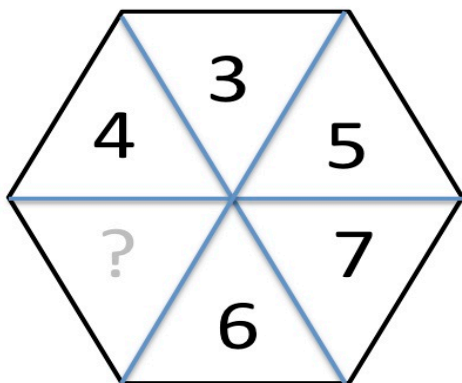
4	8	12	16																		64
---	---	----	----	--	--	--	--	--	--	--	--	--	--	--	--	--	--	--	--	--	----

4	9	14	19																		79
---	---	----	----	--	--	--	--	--	--	--	--	--	--	--	--	--	--	--	--	--	----

5	6	10	11	15																	41
---	---	----	----	----	--	--	--	--	--	--	--	--	--	--	--	--	--	--	--	--	----

10	11	16	17	22																	53
----	----	----	----	----	--	--	--	--	--	--	--	--	--	--	--	--	--	--	--	--	----

2 - Le triangle mystère : Complète la case vide (cherche une règle en comparant les trois case du haut avec les 3 du bas).





Correction Fiche 1

1 - Complète les série suivantes (pour cela, tu devras trouver à chaque fois la règle qui te permettra de continuer).

5	6	9	10	13	14	17	18	21	22	25	26	29	30	33
---	---	---	----	----	----	----	----	----	----	----	----	----	----	----

5	6	8	9	11	12	14	15	17	18	20	21	23	24	26	27
---	---	---	---	----	----	----	----	----	----	----	----	----	----	----	----

4	8	12	16	20	24	28	32	36	40	44	48	52	56	60	64
---	---	----	----	----	----	----	----	----	----	----	----	----	----	----	----

4	9	14	19	24	29	34	39	44	49	54	59	64	69	74	79
---	---	----	----	----	----	----	----	----	----	----	----	----	----	----	----

5	6	10	11	15	16	20	21	25	26	30	31	35	36	40	41
---	---	----	----	----	----	----	----	----	----	----	----	----	----	----	----

10	11	16	17	22	23	28	29	34	35	40	41	46	47	52	53
----	----	----	----	----	----	----	----	----	----	----	----	----	----	----	----

2 - Le triangle mystère : Complète la case vide (cherche une règle en comparant les trois case du haut avec les 3 du bas).

