



# Mathématiques CM

Jeux de Calcul 2

NOM : .....

date : .....

1 - Complète les série suivantes (pour cela, tu devras trouver à chaque fois la règle qui te permettra de continuer).

3	5	4	6	5															10
---	---	---	---	---	--	--	--	--	--	--	--	--	--	--	--	--	--	--	----

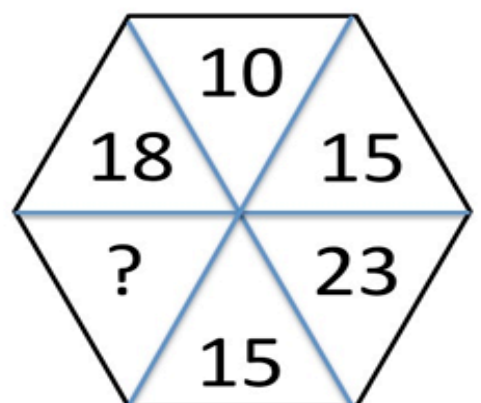
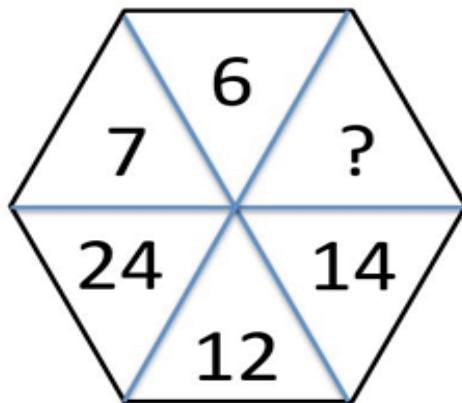
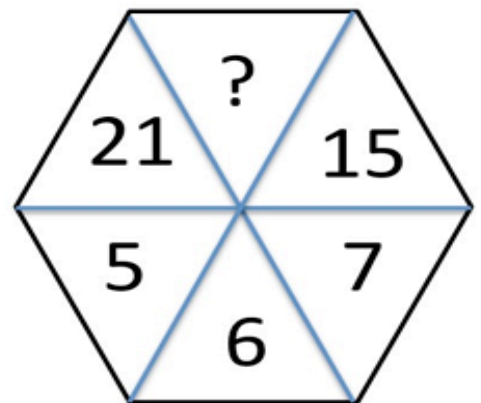
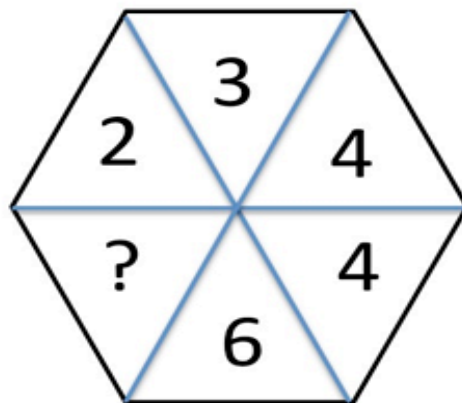

5	10	20	25	35																115
---	----	----	----	----	--	--	--	--	--	--	--	--	--	--	--	--	--	--	--	-----

6	10	15	19	24																63
---	----	----	----	----	--	--	--	--	--	--	--	--	--	--	--	--	--	--	--	----

8	12	10	14	12																26
---	----	----	----	----	--	--	--	--	--	--	--	--	--	--	--	--	--	--	--	----

9	15	12	18	15																36
---	----	----	----	----	--	--	--	--	--	--	--	--	--	--	--	--	--	--	--	----

2 – Le triangle mystère : Complète la case vide (cherche une règle en comparant les trois case du haut avec les 3 du bas).





## Correction Fiche 2

1 - Complète les série suivantes (pour cela, tu devras trouver à chaque fois la règle qui te permettra de continuer).

3	5	4	6	5	7	6	8	7	9	8	10	9	11	10
---	---	---	---	---	---	---	---	---	---	---	----	---	----	----

5	10	20	25	35	40	50	55	65	70	80	85	95	100	110	115
---	----	----	----	----	----	----	----	----	----	----	----	----	-----	-----	-----

6	10	15	19	24	28	33	37	42	46	51	55	60	64	69	63
---	----	----	----	----	----	----	----	----	----	----	----	----	----	----	----

8	12	10	14	12	16	14	18	16	20	18	22	20	24	22	26
---	----	----	----	----	----	----	----	----	----	----	----	----	----	----	----

9	15	12	18	15	21	18	24	21	27	24	30	27	33	30	36
---	----	----	----	----	----	----	----	----	----	----	----	----	----	----	----

2 - Le triangle mystère : Complète la case vide (cherche une règle en comparant les trois case du haut avec les 3 du bas).

