


# PROBLEMES DE GEOMETRIE

## Exercice 1



Combien faut-il de triangles  
pour « boucher le trou » ?

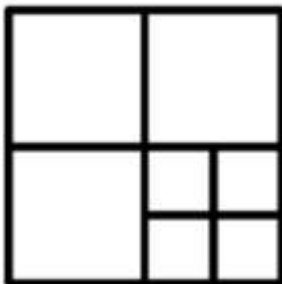


## Exercice 2




Combien y a-t-il de triangles en tout ?

## Exercice 7



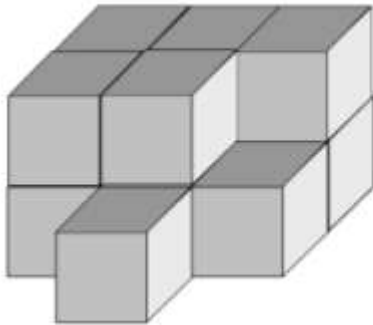
Combien de carrés y a-t-il dans cette  
figure ?

**Exercice 8**



Ariette découpe cette tarte en quatre parts égales avec seulement deux coups de couteau.  
Dessine le découpage sur la tarte.

**Exercice 9**



Les cubes ne peuvent pas rester tout seuls en l'air. Combien faut-il de cubes pour faire cette construction ?